
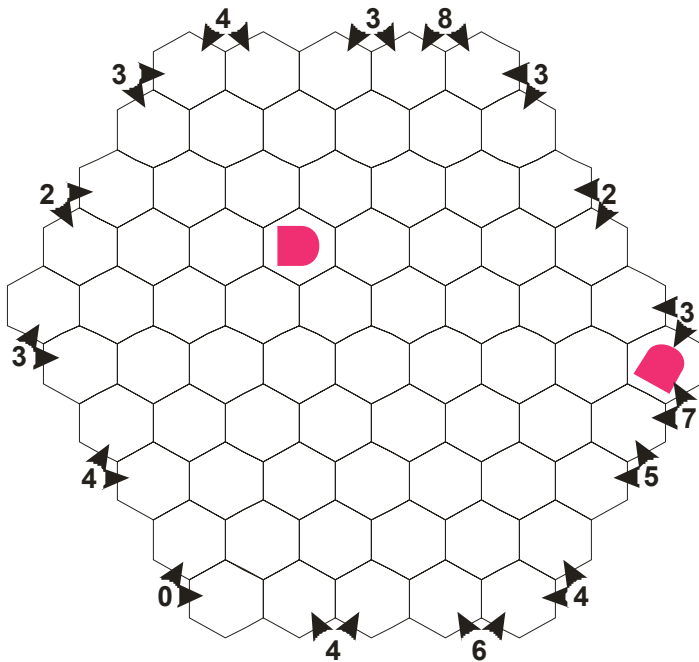


Méhsejtes torpedó


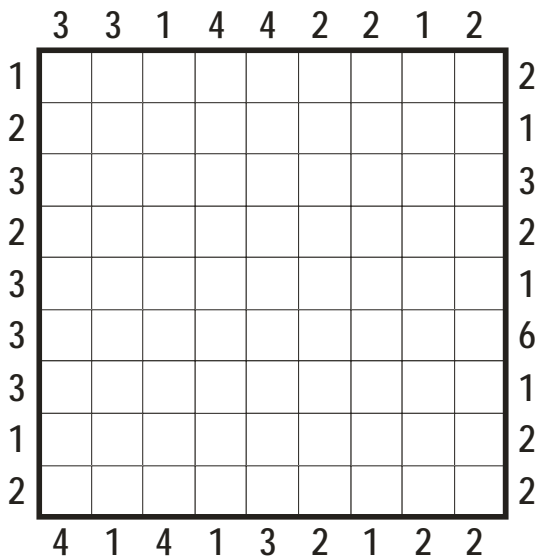
Helyezze el a megadott flottát a hálózatban úgy, hogy az egyes hajók vízszintesen, vagy az ábra két átlós irányában helyezkedjenek el. Az ábrán kívül megadott számok azt mutatják, hogy helyes megfejtés esetén abban a két irányban összesen mennyi hajórész található.



70 PONT

Könnyű, mint a torpedó

Helyezze el a megadott flottát a hálózatban úgy, hogy az egyes hajók vízszintesen, vagy függőlegesen helyezkedjenek el. Az ábrán kívül jobb oldalon és alul megadott számok azt mutatják, hogy helyes megfejtés esetén abban a sorban, illetve oszlopban mennyi hajórész található, míg a felül és bal oldalon megadott számok azt jelezzék, hogy abból az irányból – helyes megfejtés esetén – mekkora méretű hajó található a legközelebb.



90 PONT

A versenyző neve:	Hibasám:	Helyezés:
	Fejtési idő:	



Rejtvényfejtő verseny
a magyar rejtvényfejtők napjának
tiszteletére – 2009. február 8.



Torpedó variációk HALADÓ

Fejtési idő kezdete:	Fejtési idő vége:
----------------------	-------------------