

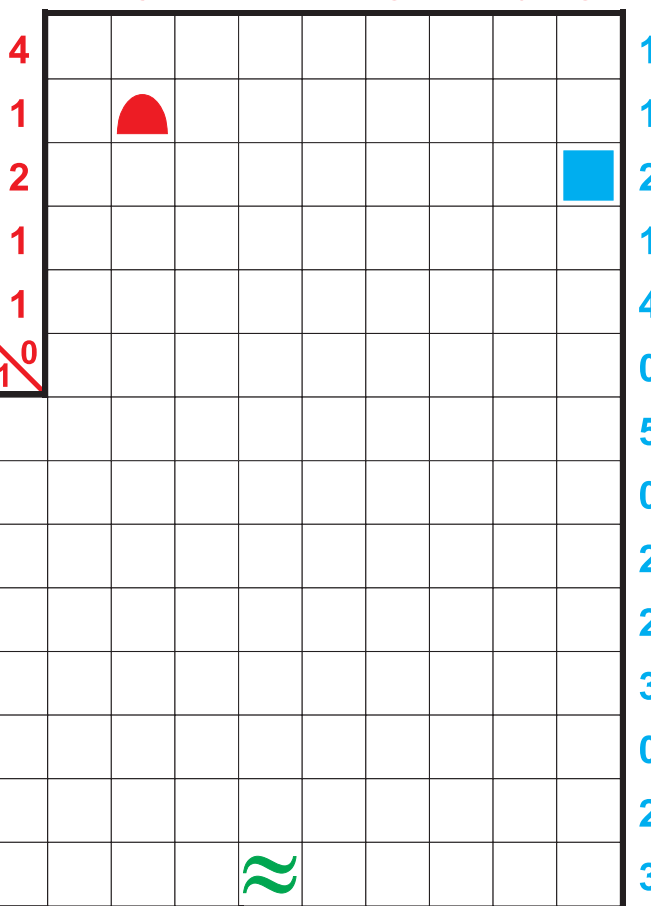
Kétszínű torpedó

Jelképes tengerünkben a piros és a kék flotta csatázik egymással. Mindkét flotta 15 hajóból áll, amelyeket az ábra mellett talál meg. Az ábrát körülvevő számok azt jelzik, hogy az adott sorban, illetve oszlopban a különböző színű hajókból mennyi egység található. Határozza meg a két hajóhad helyzetét, ha azt is tudja, hogy a hullámos vonallal jelölt tengerrészekben hajó nem lehet! Két hajó egymást még sarkosan sem érintheti, akkor sem, ha egy flottába tartoznak. Könnyítésül néhány elemet előre berajzoltunk.

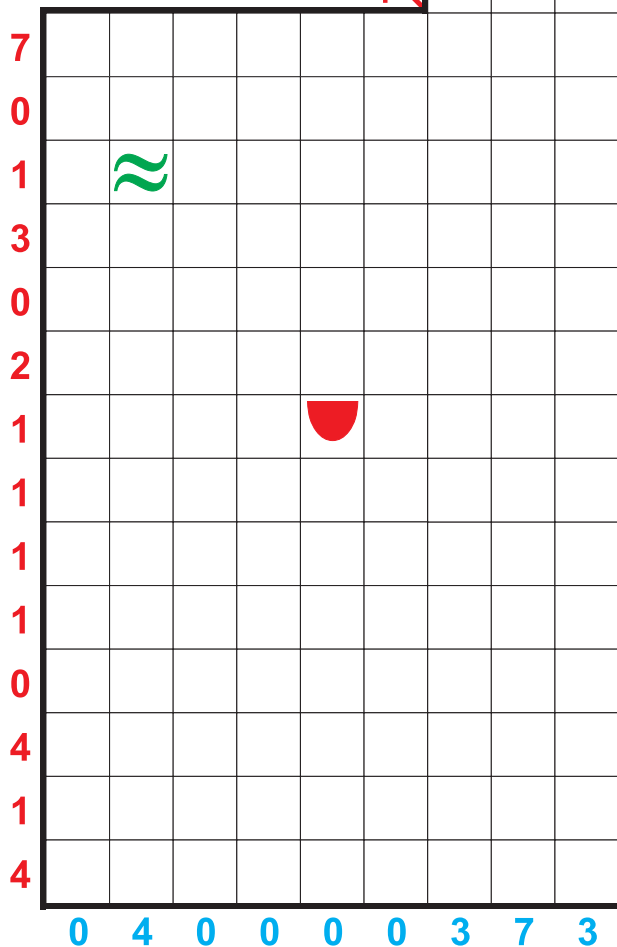
KRESZ KÁROLY



1 5 1 1 1 3 1 0 3



2 3 3 0 10 1 0




2 5 2 3 2 1 5



Aknakereső torpedó

Helyezze el a megadott flottát a hálózatban úgy, hogy az egyes hajók vízszintesen vagy függőlegesen helyezkedjenek el és egymást még átlósan se érintsék! A megadott számok azt mutatják, hogy helyes megfejtés esetén a körülöttük levő mezőkben (átlós szomszédság is számít!) mennyi hajó rész van.

1	2			1	1		1	0
	3		4	4			3	
	3	1					2	
		2		3			2	
				2				
1			2				1	1
2					2			
		2	1		3			
								0




60 PONT

Számtorpedó

Helyezze el a megadott flottát a hálózatban úgy, hogy az egyes hajók vízszintesen, vagy függőlegesen helyezkedjenek el, és egymást még átlósan se érintsék! Az ábrán kívül jobb oldalon és alul megadott számok azt mutatják, hogy helyes megfejtés esetén abban a sorban, illetve oszlopban mennyi a hajók által „eltakart” számok összege.

2	6	9	2	2	1	3	3	9	20
5	5	8	5	2	4	4	3	5	9
1	5	1	1	8	9	1	3	3	15
5	6	6	2	6	4	1	3	7	0
2	6	4	8	5	7	7	2	6	9
2	4	4	2	1	6	5	8	9	1
3	9	3	1	4	4	1	2	4	18
9	7	2	5	1	5	6	3	6	8
8	7	8	6	9	4	6	4	9	9
2	27	10	1	14	0	15	2	18	



100 PONT

A versenyző neve:	Hibasám:	Helyezés:
	Fejtési idő:	



Rejtvényfejtő verseny
a magyar rejtvényfejtők napjának
tiszteletére – 2009. február 8.



Torpedó variációk KEZDŐ

Fejtési idő kezdete:	Fejtési idő vége:
----------------------	-------------------